

令和 6 年 度

# 一関修紅高等学校一般入学試験問題

第 3 時 限

(1月18日 11:00～11:50)

社 会


(注 意)

- 1 「始めなさい。」の指示があるまで、問題を見てはいけません。
- 2 答えは、必ず解答用紙の「答」の欄に記入しなさい。問題用紙に書いても無効です。
- 3 答えは、記号・数字・ことばなどで書くようになっていますから、問題をよく読んで、定められたとおりに書きなさい。
- 4 書き誤りをしたときは、きれいに消してから新しい答えを書きなさい。はっきりしない答えを書いた場合は、誤りとされます。
- 5 解答用紙の※印の欄（得点の欄）には記入してはいけません。
- 6 時間内に書き終わっても、その場に着席していなさい。
- 7 「やめなさい。」の指示があったら、直ちに書くのをやめ、筆記具を置きなさい。
- 8 問題用紙は、表紙を含めないで14ページで、問題は9題です。

1 日本の貿易や地域的特色について、次の地図やグラフを見て、あとの(1)～(5)の問いに答えなさい。

(1) 図1は、日本の2019年の原油輸入額の多い上位3か国を示したものです。A・Bの国名の組み合わせとして、正しいものはどれですか。ア～エから一つ選び、記号を書きなさい。(2点)

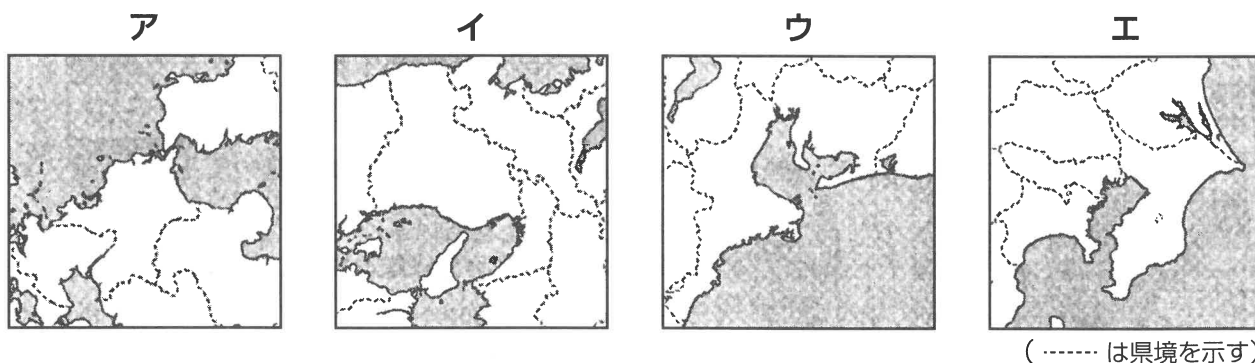
図1



(『日本国勢図会』2020/21年版により作成)

- |   |           |            |
|---|-----------|------------|
| ア | A サウジアラビア | B カナダ      |
| イ | A サウジアラビア | B アラブ首長国連邦 |
| ウ | A アメリカ合衆国 | B カナダ      |
| エ | A アメリカ合衆国 | B アラブ首長国連邦 |

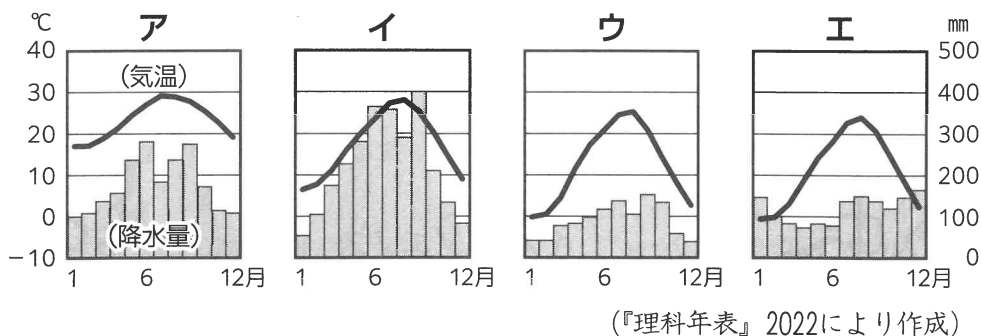
(2) 日本は原材料を輸入し、製品に加工して輸出する加工貿易を行ってきました。京葉工業地域は輸入した原油などを原料として、化学製品を製造する石油化学工業が盛んな地域です。次の地図のうち、京葉工業地域が含まれるのはどれですか。ア～エから一つ選び、記号を書きなさい。(2点)



(3) 日本は肉類や魚介類、穀物類など多くの食料品を輸入しています。次の文は食料品の輸入について述べた文です。文中の **A** にあてはまることばは何ですか。漢字三字で書きなさい。(2点)

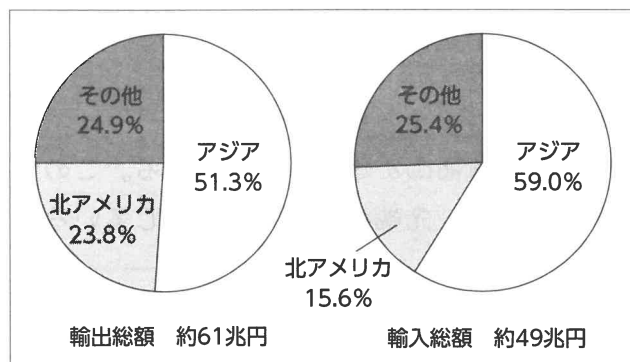
国内で消費する食料全体のうち、国内生産によってまかなえる量を示す割合は食料 **A** とよばれている。日本の食料 **A** は2010年以降40%を下回り、品目別で見ると米は100%に近い一方で小麦は10%台となっている。(カロリーベース)

(4) 農林水産物の輸出額のうち、果物ではりんごが最も多くなっています。りんごの生産が盛んな青森県弘前市の雨温図はどれですか。ア～エから一つ選び、記号を書きなさい。(2点)



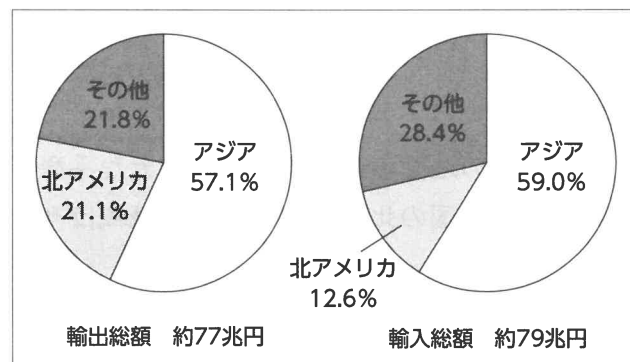
(5) 次の図2、図3は2004年と2019年における、日本の輸出総額および輸入総額に占める地域別の割合を、アジア、北アメリカ、その他の地域に分けて示したものです。あとのA・Bの文は、これらのグラフを読み取ったものです。このA・Bの文について、内容が正しいか、誤っているか、正しい組み合わせはどれですか。ア～エから一つ選び、記号を書きなさい。(2点)

図2 2004年における地域別輸出入額の割合



(『日本国勢図会』2005/06年版により作成)

図3 2019年における地域別輸出入額の割合



(『日本国勢図会』2020/21年版により作成)

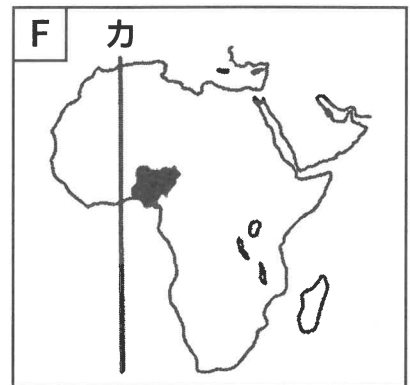
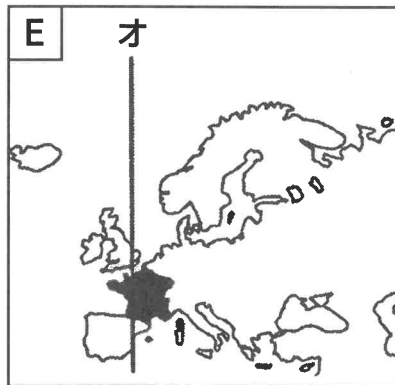
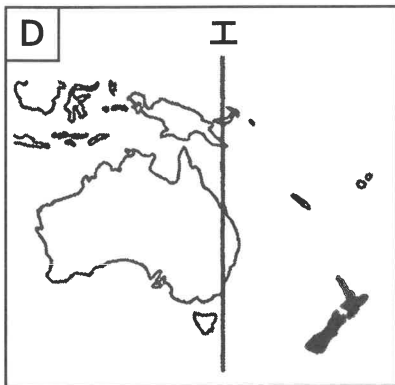
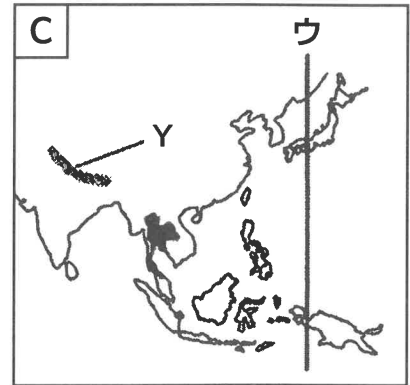
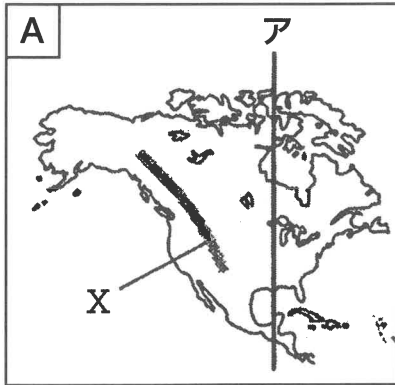
A 2004年と2019年において、輸出総額および輸入総額に占める地域別の割合を見ると、いずれの年もアジアが最も高く、輸出総額および輸入総額を見ると輸入総額の増加額よりも輸出総額の増加額のほうが大きい。

B 2004年と2019年において地域別の輸出額および輸入額を見ると、いずれの年も北アメリカに対しては貿易黒字であり、日本の貿易全体を見ると2004年は貿易黒字であるが2019年は貿易赤字である。

- ア A・Bともに正しい。
- イ Aは正しいが、Bは誤っている。
- ウ Aは誤っているが、Bは正しい。
- エ A・Bともに誤っている。

2

世界各地の生活と環境について、次の地図A～Fと説明I・IIを見て、あとの(1)～(6)の問いに答えなさい。



I この地図中の大陸には、広大な平原と4000mをこえる高山が連なる山脈がある。この大陸にある国の北緯37度より南の地域はサンベルトとよばれ、先端技術産業が発達している。

II この地図中の大陸は、世界の大陸の中で2番目に面積が広く、地中海に面している。北部には世界最大の砂漠がある。西部の湾岸には、世界有数のカカオの産地がある。

(1) 地図中の直線について、本初子午線はどれですか。ア～カから二つ選び、記号を書きなさい。  
(完全解) (2点)

(2) 地図AとCのXとYは、山脈を示しています。XとYの山脈のうち、日本列島と同じ造山帯に属しているものはどれですか。一つ選び記号を書きなさい。 (2点)

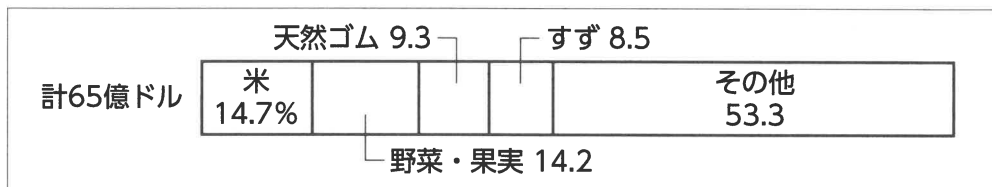
(3) (2)の造山帯名を何といいますか。ことばで書きなさい。 (2点)

(4) I、IIの説明について、それぞれが示す地図はどれですか。A～Fから一つずつ選び、記号を書きなさい。(2点×2)

(5) ブエノスアイレス周辺の農業について、その様子として最も適切なものはどれですか。次のア～エから一つ選び、記号を書きなさい。(2点)

- ア 標高の高い地域まで畑にして、とうもろこしやじゃがいもを作っている。
- イ パンパとよばれる草原が広がり、小麦の栽培や牛の放牧がおこなわれている。
- ウ 近年、コーヒー豆や大豆、さとうきびなどの生産が増えている。
- エ 大規模な農園が発達し、バナナ等の輸出用作物が生産されている。

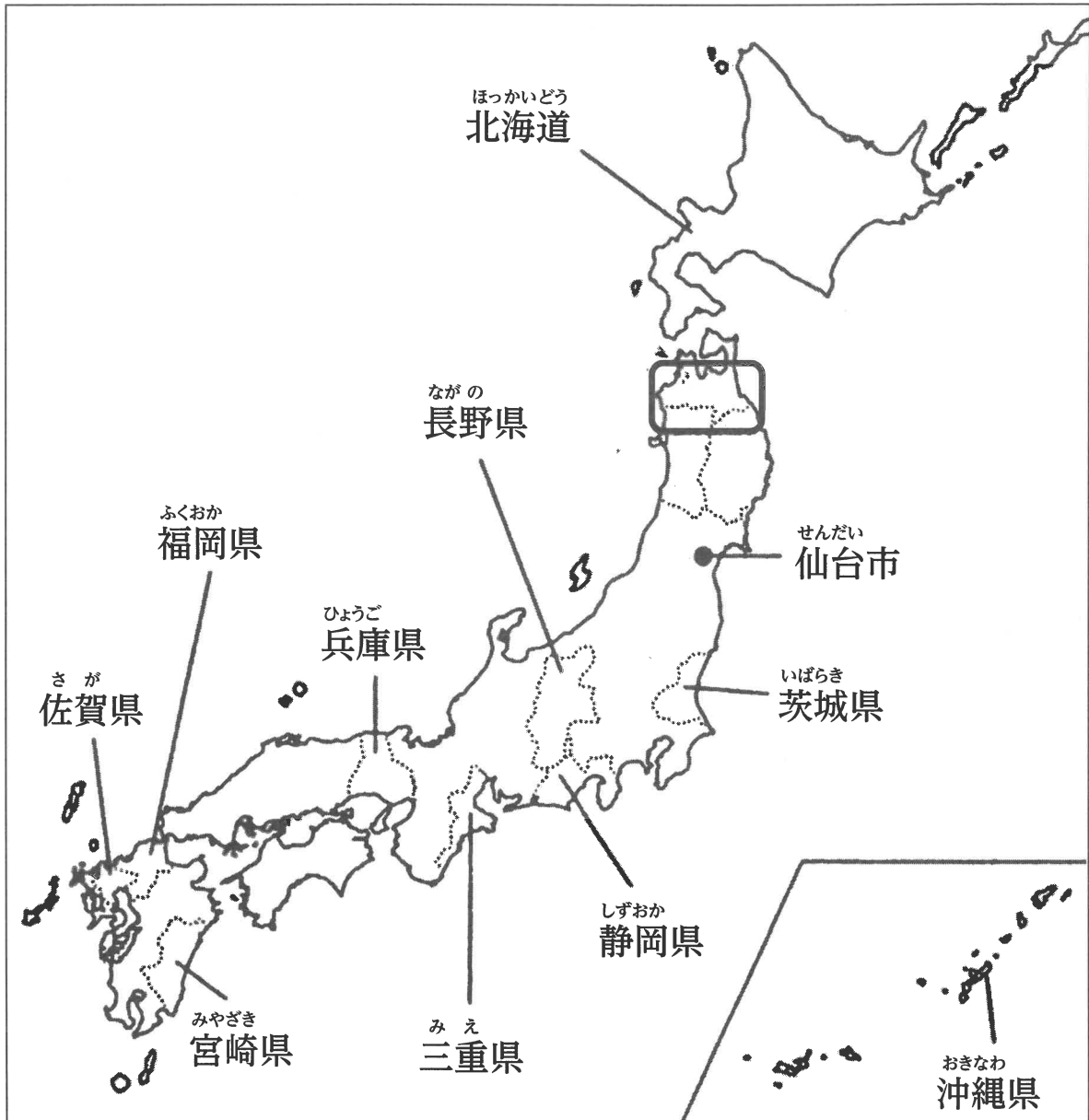
(6) 次の図について、このグラフは地図C、D、E、F中の●で示したいずれかの国の1980年の輸出品のグラフです。その国を示す地図はどれですか。C～Fから一つ選び、記号を書きなさい。(2点)



(「UN Comtrade」, 「世界国勢図会2020/21」より作成)

3

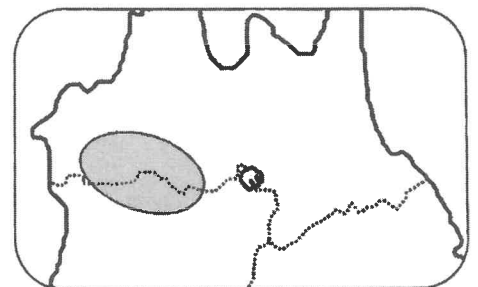
日本の諸地域について、次の地図を見て、あとの(1)～(5)の問いに答えなさい。



(1) 右の図は地図中の□で囲んだ範囲の拡大図です。

●で示した付近に広がる自然環境について述べた文はどれですか。ア～エから一つ選び、記号を書きなさい。(3点)

- ア 吉野杉などの良質な樹木が育っている。
- イ 縄文杉をはじめとする貴重な自然が残っている。
- ウ 日本アルプスとよばれる3000m級の山脈がある。
- エ ブナの原生林が残る白神山地が広がっている。



(2) 仙台市について、この都市は、政府によって指定を受け、都道府県が担う業務の一部を分担する都市です。このような都市を何といいますか。漢字六字で書きなさい。(3点)

(3) 兵庫県について、この県にも(2)で答えた**都市**があります。その**都市名**は何といますか。  
ことばで書きなさい。(3点)

(4) 次の表について、この表は福岡県、佐賀県、宮崎県における、耕地面積に占める水田の割合、農業生産額のうち、米と畜産の産出額、工業出荷額を示したものです。AとCにあてはまる**県名**は何ですか。正しい組み合わせをA～Eから一つ選び、記号を書きなさい。(2点)

	耕地面積に占める 水田の割合 (%)	農業生産額 米 (億円)	農業生産額 畜産(億円)	工業出荷額 (億円)
A	53.4	172	2,209	16,523
B	82.8	155	340	20,839
C	80.7	376	389	99,760

(データでみる県勢2021他)

- ア A 宮崎県 C 佐賀県  
イ A 福岡県 C 宮崎県  
ウ A 佐賀県 C 福岡県  
エ A 宮崎県 C 福岡県

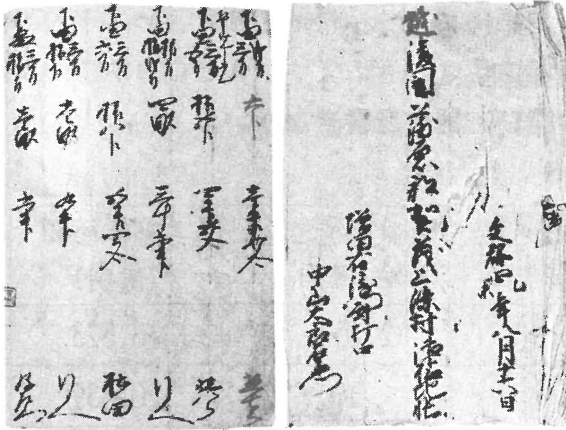
(5) 静岡県の工業について述べた文として、**最も適当なもの**はどれですか。A～Eから一つ選び、**記号**を書きなさい。(2点)

- ア 豊かな水を利用した製紙、パルプ工業が盛んで、パルプ、紙、紙加工品の出荷額は全国第一位である。  
イ 金属加工の技術が発達し、ナイフやフォークなどの金属洋食器出荷額は全国第一位である。  
ウ 織物機械を作る技術を土台にして、自動車の生産が始まり、輸送用機械の出荷額は全国第一位である。  
エ 明治時代に副業としてメガネフレームづくりが始まり、メガネフレームの出荷額は全国第一位である。

4

和真さんのクラスでは古代から近世までの文化財について、A～Eまでのカードを作成しました。これを見て、あとの(1)～(5)の問いに答えなさい。

A



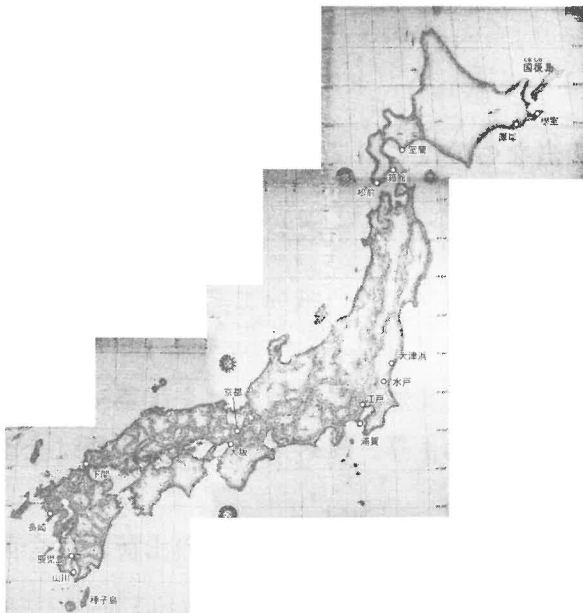
太閤検地で作られた検地帳

B



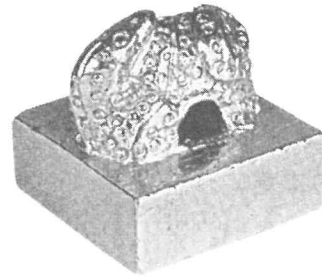
東大寺に造立された大仏

C



伊能忠敬によって作成された地図

D



現在の福岡県で発見された金印

E



宇治に建立された平等院鳳凰堂

(1) Aについて、太閤検地と刀狩により、武士と百姓の身分の区別が明確になりました。このことを何といいますか。漢字四字で書きなさい。(3点)



(2) Bについて、この大仏を造立したのは誰ですか。ア～エから一つ選び、記号を書きなさい。(3点)

ア 道元      イ 藤原頼通      ウ 聖武天皇      エ 足利義満

(3) Cについて、このような正確な地図が作成された背景として、誤っているものはどれですか。ア～エから一つ選び、記号を書きなさい。(3点)

- ア ロシアなどの外国船が何度も来航していた。
- イ ヨーロッパの優れた測量技術が導入されていた。
- ウ 藩校により人材の育成がなされ、寺子屋の普及によって識字率が高まっていた。
- エ 外国との条約により函館・神戸などの貿易港が開かれていた。

(4) Dについて、この金印には下のような漢字五字がほられていました。□にあてはまる字は何ですか。漢字一字で書きなさい。(3点)

「漢□奴国王」

(5) Eについて、この建物の説明文として、正しいものはどれですか。次のア～エから一つ選び、記号を書きなさい。(3点)

- ア 貿易によって莫大な利益を得た将軍の力を示そうとした。
- イ 阿弥陀仏の住む極楽浄土をこの世に再現しようとした。
- ウ 仏教の力で国を守り、人々の不安を取り除こうとした。
- エ 座禅によってさとりを得ようとする禅宗を広めようとした。

5

日本とアメリカの歴史について、次の年表と会話文を見て、あとの(1)～(6)の問いに答えなさい。

西 暦	おもなできごと
1853年	ペリーが <b>㉑浦賀</b> に来航する
1854年	日米和親条約が結ばれる
1858年	<b>㉒日米修好通商条約</b> が結ばれる
1904年	日露戦争が始まる
<b>㉓1911年</b>	日本が関税自主権を回復する
1921年	ワシントン会議が開かれる
1929年	世界恐慌が始まる
1941年	太平洋戦争が始まる


- 優司 日本とアメリカの外交はペリー来航をきっかけに始まることになるね。
- 裕子 幕末には、佐賀藩士たちも藩の学校で英語を学んでいたようだよ。
- 優司 日露戦争のあとには、**㉔アメリカの仲介により、講和条約が結ばれた**し、アメリカは重要な貿易相手国の一つでもあったんだ。
- 裕子 第一次世界大戦のときには、日本はアメリカや他の国とともに**㉕シベリアに出兵**しているよ。
- 優司 その後、日本はアメリカと戦争することになるけど、その頃の日米関係についてはもっと調べる必要がありそうだね。
- 裕子 第二次世界大戦後の日本とアメリカは、互いに良い関係を維持してきたようだけど、両国の間に問題はないのかな。
- 優司 2016年5月のアメリカのオバマ大統領の広島訪問は、安全保障や**㉖米軍基地**、核の問題などを考える上で大きな意義があったと思うよ。

(1) 下線部㉑について、この時期の国際情勢を表した風刺画はどれですか。次のア～ウから一つ選び、記号を書きなさい。(2点)


ア



イ



ウ



(2) 下線部㉒について、浦賀がある県はどこですか。次のア～エから一つ選び、記号を書きなさい。(2点)

ア 千葉県

イ 神奈川県

ウ 静岡県

エ 埼玉県

(3) 下線部㉓について、この条約の内容として正しいものはどれですか。次のア～エから一つ選び、記号を書きなさい。(2点)

ア 横浜・長崎・函館の3港のみが貿易港として自由な貿易を認められた。

イ 日本に輸出入品の関税率を自主的に決定する権利があった。

ウ 外国人の犯罪を日本の法律で裁くことができなかった。

エ 日本がアメリカ以外の国と条約を結ぶことが禁じられた。

(4) 下線部㉔について、この講和条約を何といいますか。条約名をことばで書きなさい。(2点)

(5) 下線部㉕について、この出兵をきっかけにして日本各地で大きな騒動がおきました。このことを何といいますか。次のア～エから一つ選び、記号を書きなさい。(2点)

ア 米騒動

イ 百姓一揆

ウ 秩父事件

エ 二・二六事件

(6) 下線部㉖について、日本国内にある米軍基地のうち、最も広い面積の基地がある都道府県はどこですか。次のア～エから一つ選び、記号を書きなさい。(2点)

ア 青森県

イ 東京都

ウ 沖縄県

エ 神奈川県

6

弥生時代から鎌倉時代の歴史について、次の各文を読んで、あとの(1)～(5)の問いに答えなさい。

弥生時代～古墳時代

- ・稲作などの新たな文化が西日本一帯に広がり、やがて東北地方にも広まった。収穫した稲は、**㉑**倉庫や穴蔵に蓄えた。
- ・朝鮮半島から日本に渡った渡来人によって、**㉒**漢字や儒教などが伝えられた。

奈良時代

- ・律令国家の新たな都市として**㉓**唐の都になった平城京がつけられた。
- ・聖武天皇は、仏教の力で国を守ろうと国分寺や国分尼寺を立てた。

平安時代

- ・9世紀の中ごろから藤原氏が勢力を強めた。
- ・遣唐使とともに唐にわたり、仏教を学んだ**㉔**僧侶らが、帰国後に新たな宗派をつくった。


鎌倉時代

- ・公家を中心とした伝統文化を基礎に、武士の活躍をえがいた**㉕**軍記物が生まれた。
- ・幕府を開いた頼朝の死後、北条氏が実権を握った。

- (1) 下線部**㉑**について、この倉庫を何といいますか。漢字で書きなさい。(2点)
- (2) 下線部**㉒**について、紀元前1600年ごろ栄えた殷という国で、現在の漢字のもとになった文字がつけられました。この文字を何といいますか。次のア～エから一つ選び、記号を書きなさい。(2点)
- ア 甲骨文字      イ 象形文字      ウ かな文字      エ くさび形文字
- (3) 下線部**㉓**について、当時の唐の都を何といいますか。次のア～エから一つ選び、記号を書きなさい。(2点)
- ア 北京      イ 南京      ウ 洛陽      エ 長安
- (4) 下線部**㉔**について、最澄と空海が開いた宗派と、建てた寺の組み合わせとして正しいものはどれですか。次のア～エから一つ選び、記号を書きなさい。(2点)
- ア 最澄が天台宗を開き、金剛峰寺を建てた。空海が真言宗を開き、東大寺を建てた。
- イ 最澄が真言宗を開き、延暦寺を建てた。空海が天台宗を開き、金剛峰寺を建てた。
- ウ 最澄が天台宗を開き、延暦寺を建てた。空海が真言宗を開き、金剛峰寺を建てた。
- エ 最澄が真言宗を開き、東大寺を建てた。空海が天台宗を開き、延暦寺を建てた。
- (5) 下線部**㉕**について、「祇園精舎の鐘の声…」ではじまる文学作品はどれですか。次のア～エから一つ選び、記号を書きなさい。(2点)
- ア 平家物語      イ 方丈記      ウ 万葉集      エ 徒然草

7

次の図は、新しい人権と日本国憲法で定められている権利について、説明するための図です。また、あとの会話文は、この図を見ながら話したものです。あとの(1)～(2)の問いに答えなさい。



先生 図のマンションは、屋上が階段状になっています。なぜ、このような形になっているか考えてみましょう。

勇人 はい。北側に隣接する住宅の住民の  です。

先生 そのとおりですね。国民には憲法によって④自由や権利が認められています。それと同時に他の人の人権を守ったり、快適な社会を実現したりする責任もともないます。

(1) 文中の  について、あてはまる文は何ですか。具体的な権利を含め、15字以内で完成させなさい。(4点)

(2) 下線部④について、職業選択の自由が憲法第22条で保障されています。かつては採用において「男性のみ」または「女性のみ」という募集がありましたが、現在では禁止されています。これは1985年に制定された法律によるものです。この法律を何といいますか。次のア～エから一つ選び、記号を書きなさい。(2点)

- ア 両性の本質的平等法
- イ 男女雇用機会均等法
- ウ 女子差別撤廃法
- エ 男女雇用機会平等法

8

経済のグローバル化について、次の文を読んで、あとの(1)～(3)の問いに答えなさい。

1980年代後半から、それまでの政府の計画通りに経済を動かす **A** を採用してきた、ソ連や東欧諸国が自由な **B** に移行し、賃金の安い労働力が市場に増えました。また、工業化を進めた **㉑**韓国やシンガポールなどのアジアの国々や **㉒**インド、ブラジルなどの新興国が次々と国際貿易に参加するようになりました。その結果経済のグローバル化が進みました。経済のグローバル化とは、ある特定の国家間だけでなく、地球規模で、モノ・情報・人・お金が自由に行き来することです。こうした経済は、輸送の技術や国際金融市場、国交や外交など、複数の条件がそろって初めて可能になります。

(1) **A** ・ **B** について、それぞれにあてはまることばは何ですか。正しい組み合わせを次のア～エから一つ選び、記号を書きなさい。(3点)

- |   |   |      |   |      |
|---|---|------|---|------|
| ア | A | 計画経済 | B | 市場経済 |
| イ | A | 計画経済 | B | 金融経済 |
| ウ | A | 市場経済 | B | 計画経済 |
| エ | A | 金融経済 | B | 市場経済 |

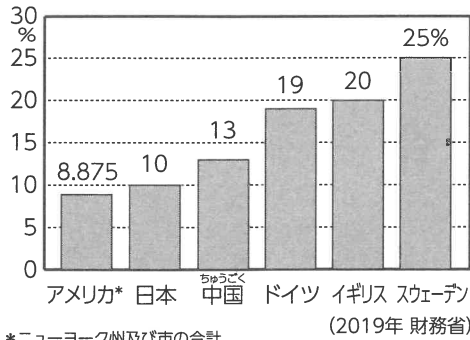
(2) 下線部 **㉑** について、これらの国や地域を新興工業経済地域とよびます。これらの国や地域をアルファベットでどのように表しますか。アルファベット4字で書きなさい。(3点)

(3) 下線部 **㉒** について、インド、ブラジルを含む国の頭文字から **BRICS** とよばれる5か国があります。インド・ブラジル以外の国の組み合わせとして正しいものはどれですか。ア～エから一つ選び、記号を書きなさい。(3点)

- |   |       |     |       |
|---|-------|-----|-------|
| ア | ルーマニア | カナダ | 南アフリカ |
| イ | ロシア   | 中国  | スペイン  |
| ウ | ロシア   | 中国  | 南アフリカ |
| エ | ルーマニア | カナダ | スペイン  |

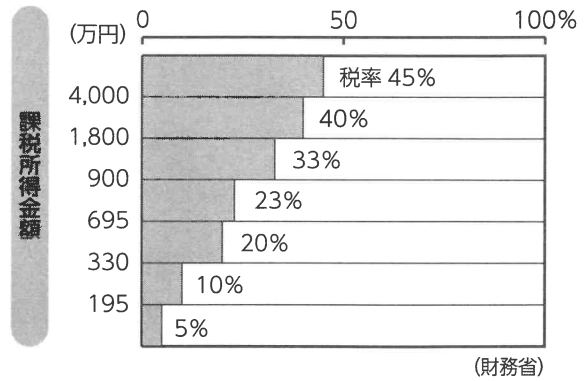
9

税金の種類と特徴について、次のグラフを見て、あとの(1)～(3)の問いに答えなさい。



\*ニューヨーク州及び市の合計。  
アメリカは、州、郡、市により小売売上税(地方税)が課されている。

主な国の消費税率の比較



累進課税制度のしくみ

(1) 消費税について、スウェーデンやデンマークといった北ヨーロッパでは、税率が高く、20%以上の国があります。しかし、税率は高くてもそのことに関して国民からは、ほとんど不満の声が上がりませんといわれています。その理由について正しいものはどれですか。次のア～エから一つ選び、記号を書きなさい。(3点)

- ア 消費税以外の税金がほぼないから。
- イ 納税の義務がなく、必ず納める必要がないから。
- ウ 教育費や医療費がほぼ無料となっており、税金が有効に使われているから。
- エ 富裕層だけが納める税金となっているため、一般の国民には無関係だから。

(2) 日本の所得税について、この税には累進課税制度が適用されています。この制度を次の語句を用いて、20字以内で説明しなさい。(5点)

【語句】 高所得者 低所得者 負担

(3) 所得税と消費税について、正しい組み合わせはどれですか。次のア～エから一つ選び、記号を書きなさい。(3点)

- ア 所得税が直接税で、消費税が間接税
- イ 所得税が直接税で、消費税も直接税
- ウ 所得税が間接税で、消費税が直接税
- エ 所得税が間接税で、消費税も間接税